



Ingeniería Informática

Medios de Transmisión (MT)

Problemas del tema 7

Introducción a procesos estocásticos

Curso 2007-08

13/12/2007

Enunciados

1. Determine cual de las siguientes funciones tiene las propiedades de una función de autocorrelación

$$a) R_x(\tau) = \begin{cases} 1 & |\tau| < 1 \\ 0 & |\tau| > 1 \end{cases}$$

$$b) R_x(\tau) = \delta(\tau) + \text{sen } \omega_o \tau$$

$$c) R_x(\tau) = e^{-|\tau|}$$

$$d) R_x(\tau) = \begin{cases} 1 - |\tau| & |\tau| < 1 \\ 0 & |\tau| > 1 \end{cases}$$

2. Determine cual de las siguientes funciones tienen las propiedades de una densidad espectral de potencia

$$a) G_x(\omega) = \delta(\omega) + \cos^2 \omega$$

$$b) G_x(\omega) = 10 + \delta(\omega - 20\pi)$$

$$c) G_x(\omega) = \exp(-|\omega - 20\pi|)$$

$$d) G_x(\omega) = \exp(-(\omega - 20\pi)^2)$$

3. La densidad espectral de potencia de un proceso estocástico $x(t)$ viene dada por $G_x(\omega) = 10^{-6}\omega^2$.

a) Determine la potencia de $x(t)$ contenida en la banda de frecuencias de 0 a 5×10^3 rad/seg .

b) Determine la potencia de $x(t)$ contenida en la banda de frecuencias de 5×10^3 a 6×10^3 rad/seg.

4. Determine la función de autocorrelación de un proceso estocástico cuya densidad espectral de potencia viene dada por la expresión

$$G_x(\omega) = e^{-2|\omega|} + 0,7\pi\delta(\omega) + 1,2\pi\delta(\omega - \omega_o) + 1,2\pi\delta(\omega + \omega_o) \quad (1)$$

5. Un proceso estocástico $x(t)$ tiene una densidad espectral de potencia $G_x(\omega)$. Hallar la densidad espectral de potencia de otro proceso estocástico $y(t) = x(t) - x(t - T)$

6. Un ruido blanco con densidad espectral de potencia $\frac{N_0}{2}$ entra a un filtro paso bajo ideal con frecuencia de corte B Hz.

a) Calcule la potencia del ruido a la salida del filtro

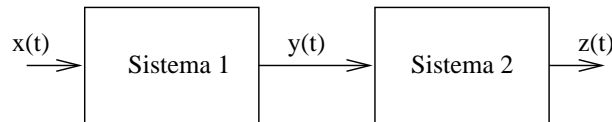
b) Calcule la función de autocorrelación del ruido a la salida del filtro.

7. Un proceso estocástico estacionario $x(t)$ tiene una función de autocorrelación dada por

$$R_x(\tau) = \begin{cases} 1 - |\tau|/T & |\tau| < T \\ 0 & |\tau| > T \end{cases} \quad (2)$$

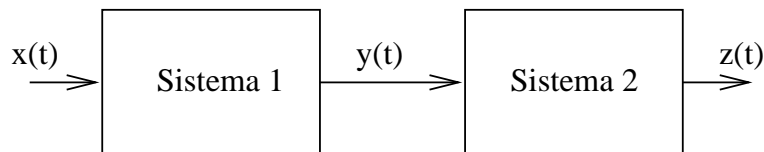
a) Calcule y dibuje la densidad espectral de potencia $x(t)$

- b) Calcule la función de autocorrelación de $y(t) = x(t) \cos(\omega_0 t)$ ¿Es $y(t)$ estacionario?
8. Un ruido $x(t)$ blanco, de media nula y densidad espectral de potencia $N_o/2$ es filtrado por un sistema LTI de respuesta al impulso $h(t)$. Calcule la potencia del ruido a la salida cuando
- a) $h(t) = \frac{\text{sen}(2\pi Bt)}{\pi t}$
- b) $h(t) = \frac{2 \text{sen}(2\pi Bt)}{\pi t} \cos \omega_0 t$
9. Un ruido blanco de media nula $x(t)$ y densidad espectral de potencia $G_x(\omega) = \frac{N_o}{2}$ entra a un sistema lineal e invariante en el tiempo de respuesta al impulso $h(t) = e^{-t} u(t)$ para producir una salida $y(t)$.
- a) Calcule $G_y(\omega)$, la densidad espectral de potencia de $y(t)$
- b) Calcule $R_y(\tau)$, la función de autocorrelación de $y(t)$
10. Sea $x(t)$ un ruido blanco gaussiano de densidad espectral de potencia $\frac{N_o}{2}$. Este ruido entra a la conexión en serie de dos sistemas LTI mostrada en la figura



El primer sistema viene especificado por la relación entrada salida $y(t) = \frac{dx(t)}{dt}$ y el segundo por la respuesta al impulso $h(t) = \frac{\sin \pi t}{\pi t}$

- a) Calcule la densidad espectral de potencia del ruido a la salida del segundo sistema.
- b) Calcule la potencia del ruido del apartado anterior.
11. Sea $x(t)$ un ruido blanco gaussiano de densidad espectral de potencia $\frac{N_o}{2}$. Este ruido entra a la conexión en serie de dos sistemas LTI mostrada en la figura



La respuesta al impulso del primer sistema es

$$h_1(t) = \delta(t) + \delta(t - T)$$

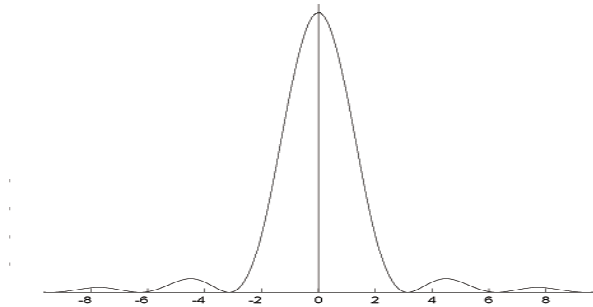
y la del segundo es

$$h_2(t) = \frac{\text{sen} \frac{\pi}{T} t}{\frac{\pi}{T} t}$$

- a) Calcule la respuesta al impulso del sistema resultante.
- b) Calcule la respuesta en frecuencia del sistema resultante.
- c) Calcule la densidad espectral de potencia del ruido $z(t)$ a la salida del segundo sistema.
- d) Calcule la potencia del ruido $z(t)$.
- e) Calcule la función de autocorrelación del ruido $z(t)$.

Soluciones

1. a) Si
b) No
c) Si
d) Si
2. a) Si
b) Si
c) Si
d) Si
3. a) $P_1 = 6,6315,10^3$ watos
b) $P_2 = 4,83,10^3$ watos
4. $R_x(t) = \frac{2}{\pi(4+t^2)} + 0,35 + 1,2 \cos \omega_0 t$
5. $G_y(\omega) = G_x(\omega)|H(\omega)|^2 = (2 - 2 \cos \omega t)G_x(\omega)$
6. a) $P_y = N_0 B$
b) $R_y(\tau) = N_0 \frac{\sin 2\pi B \tau}{2\pi \tau}$
7. a) $G_x(\tau) = \frac{4 \sin^2 \frac{\omega T}{2}}{T \omega^2}$



- b) $R_y(\tau) = \frac{1}{2} R_x(\tau) [\cos \omega_0 \tau + \cos(2\omega_0 t + \tau)]$
No es estacionario
8. a) $P_y = N_0 B$
b) $P_y = 2N_0 B$
9. a) $G_y(\omega) = \frac{N_0}{2} \frac{1}{1 + \omega^2}$
b) $R_y(\tau) = \frac{N_0}{4} e^{-|\tau|}$

$$10. \quad a) \quad G_x(\omega) = \begin{cases} \frac{N_0}{2}\omega^2 & -\pi < \omega < \pi \\ 0 & \text{resto} \end{cases}$$

$$b) \quad \sigma_z^2 = \frac{N_0}{2} \frac{\pi^2}{3}$$

$$11. \quad a) \quad h(t) = h_2(t) + h_2(t - T) \text{ donde } h_2(t) = \frac{\sin \frac{\pi}{T}t}{\frac{\pi}{T}t}$$

$$b) \quad H(\omega) = \begin{cases} T(1 + e^{-j\omega T}) & -\frac{\pi}{T} < \omega < \frac{\pi}{T} \\ 0 & \text{resto} \end{cases}$$

$$c) \quad H(\omega) = \begin{cases} N_0 T^2 (1 + \cos \omega T) & -\frac{\pi}{T} < \omega < \frac{\pi}{T} \\ 0 & \text{resto} \end{cases}$$

$$d) \quad \sigma_z^2 = N_0 T$$

$$e) \quad R_z(\tau) = N_0 T^2 r(\tau) + \frac{N_0 T^2}{2} r(\tau - T) + \frac{N_0 T^2}{2} r(\tau + T) \text{ donde } r(\tau) = \frac{\sin \frac{\pi}{T}\tau}{\frac{\pi}{T}\tau}$$