



Ejercicio 5

Aerolíneas

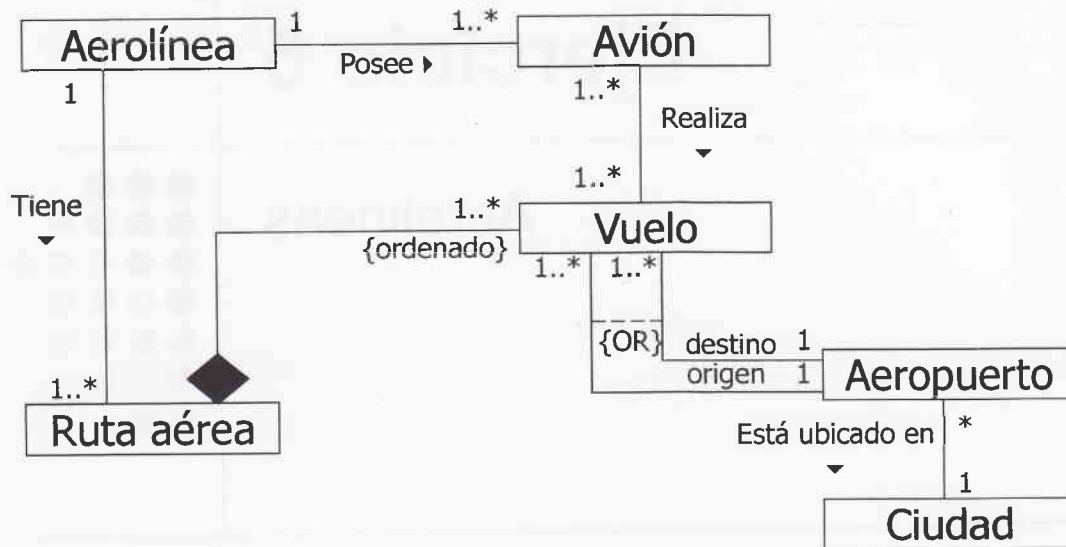



Enunciado




- Escribir un diagrama de clases que permita conocer la siguiente información:
 - * Los aviones que posee cada aerolínea
 - * Las rutas aéreas que realiza cada aerolínea (una ruta aérea puede implicar uno o más vuelos)
 - * Los aviones asignados a cada vuelo
 - * Los aeropuertos de origen y destino de cada vuelo
 - * La ciudad de origen y destino de cada vuelo

Diagrama de Clases




Ejercicio 6

Ampliación del ejercicio
de las Aerolíneas



Enunciado



- Modificar el modelo anterior para que éste permita saber:
 - ✦ Qué avión y tripulación (formada por 2 pilotos y entre 2 y 5 azafatas) hicieron un vuelo concreto (Ej. IB512 del 17/04/2003).
 - ✦ Quiénes fueron los pasajeros de un vuelo concreto

Diagrama de Clases. Alternativa 1

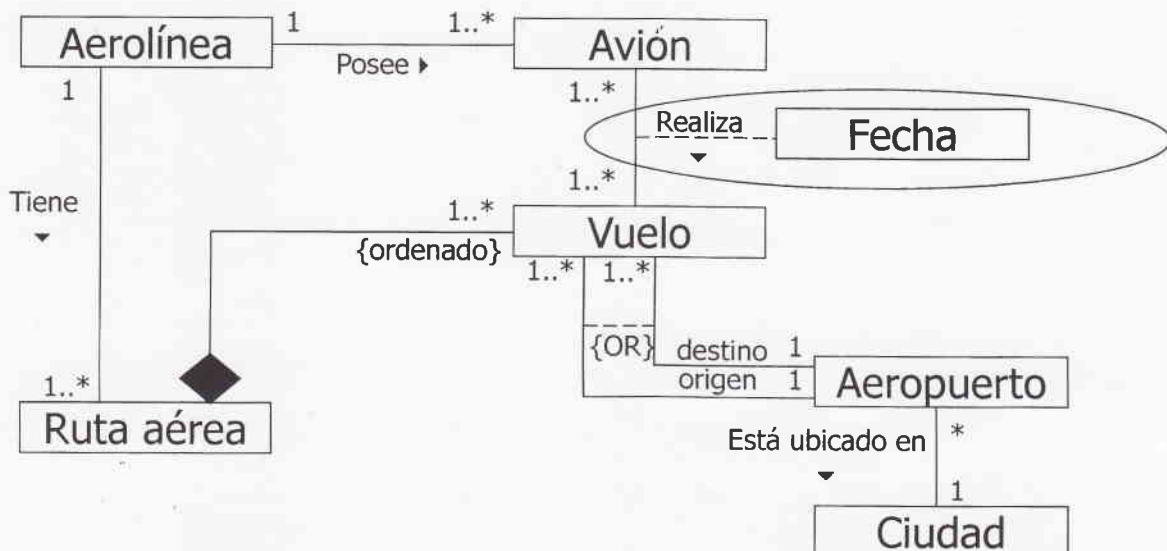


Diagrama de Clases. Alternativa 2

